



**SCHOOL EDUCATION DEPARTMENT
BOARD OF ELEMENTARY EXAMINATION
GILGIT-BALTISTAN**



MODEL PAPERS FOR TERM EXAMINATION, 2025

Class: Two**Subject: English****Total Marks: 30****Time: 1 hour**

Name of Student: _____ Roll # _____

Name of School: _____

Signature of Student: _____ Signature of Teacher: _____

| Sections | A | B | C | D | Marks Obtained Theory | Practical/ Nazra | Grand Total |
|-------------------|---|---|---|---|-----------------------------|---------------------|----------------|
| Marks Obtained | | | | | | | |
| Out of | | | | | | | |

Remarks by the Assessor:

Name of Assessor: _____

Signature of Assessor: _____

(Section-A: Listening Assessment)

Note: In this section the respective teacher will read the text aloud and twice which is given at the end of this question paper and then he/she will tell the students to solve QNo.1.

Q.1: Listen to the passage attentively and tick the correct options. /5

Questions:

- What does Sara see in the sky?
a) Moon b) Rainbow c) Star
- How many colors does she see in the rainbow?
a) 7 b) 8 c) 9
- How does Sara feel?
a) Angry b) Sad c) Happy
- Who does Sara tell?
a) Her friend b) Her mother c) Her teacher
- What do Sara and her mother do together?
a) Eat food b) Look at the rainbow c) Go to sleep

(Section-B)

Q.2. Read the passage and answer the question given at the end. **/5**

Students were taking part in different games like football, cricket, hurdle race, musical chairs etc. After sometime, a teacher told us to get ready for the sack race. We all lined up with our sacks. Soon, the race started. Adil ran very fast and won the race. He thanked Allah for his success. The principal gave him a trophy. It was a great day for him.

Circle the correct option

- What were the students doing?
 - Studying in class
 - Taking part in different games
 - Eating lunch
- Which race did the teacher ask the students to get ready for?
 - Hurdle race
 - Cricket match
 - Sack race
- Who won the sack race?
 - Bilal
 - Adil
 - The teacher
- What did Adil do after winning?
 - Thanked Allah
 - Went home
 - Cried
- What did the principal give Adil?
 - Medal
 - Trophy
 - Ball

(Section-C)**Q.3 (a) Match the column A with Column B.****/5**

| # | Column A | Column B |
|---|----------|---------------|
| 1 | Shiny | Fault |
| 2 | Loud | In a safe way |
| 3 | Mistake | Bright |
| 4 | Safety | A large bag |
| 5 | Sack | Noisy |

(b) Choose and write the words in correct boxes.**/ 2****Grandmother, son, madam, man.**

| Masculine | Feminine |
|-----------|----------|
| | |
| | |

(c) Insert has or have.**Marks 3**

1) Hassan _____ a sports kit.

2) I _____ a trophy.

3) Asma _____ a new dress.

(Section-D)

Q.4. Look at the picture and describe the below actions in two sentences.

/4



1. _____
2. _____

Q.5 Write THREE sentences about your teacher.

/6

1. _____
2. _____
3. _____

TEXT FOR LISTENING ASSESSMENT

NOTE for the Teacher: The teacher will read aloud this text twice and then he/she will tell students to solve Q.No.1.

Sara sees a rainbow in the sky. It has seven colors. She counts the colors red, orange, yellow, green, blue, indigo and violet. She feels happy and tells her mother. They both smile and look at the rainbow together.

Model Papers-2025 (BEEGB)



اسکول ایجوکیشن ڈیپارٹمنٹ گلگت بلتستان
بورڈ آف ایلیمنٹری ایگزیمنیشن گلگت بلتستان



ماڈل پرچہ ٹرم امتحانات، ۲۰۲۵

مضمون: اردو

جماعت: دوم

وقت: اگھنہ

کل نمبرات: ۳۰

نام طالب علم: _____ رول نمبر: _____

اسکول کا نام: _____

دستخط طالب علم: _____ دستخط معلم: _____

| تفصیل | حصہ | | | | حاصل کردہ نمبرات (تھیوری) | عملی کام (پریکٹیکل) / ناظرہ | کل میزان |
|------------------|-----|---|---|---|---------------------------|-----------------------------|----------|
| | الف | ب | ج | د | | | |
| حاصل کردہ نمبرات | | | | | | | |

جائزہ لینے والے کے ریہارکس:

جائزہ لینے والے کا نام:

جائزہ لینے والے کا دستخط:

حصہ - الف (سمعی جائزہ)

نوٹ: اس حصے میں معلم / معلمہ اس سوال نامے کے آخر میں علیحدہ سے فراہم کردہ متن / کہانی دوم مرتبہ بچوں کو پڑھ کر سنائے گی / گا اور بچے غور سے سن کر سوال نمبر ۱ میں پوچھے گئے سوالات کے جوابات لکھیں گے۔

- سوال نمبر ۱۔ سنائے گئے جملے غور سے سنیں اور درست لفظ سے خالی جگہیں پُر کریں۔
- ۱۔ بانو کا طوطا _____ باتیں کرتا ہے۔
- ۲۔ کوئی گھر میں داخل ہو تو _____ کرتا ہے۔
- ۳۔ طوطے میاں _____ کھاؤ گے؟
- ۴۔ طوطا آنکھیں مٹکا کر کہتا ہے _____
- ۵۔ طوطے میاں کی باتیں سب کو _____ لگتی ہیں۔
- (میٹھی میٹھی / پیاری پیاری) / ۵
- (سلام / شور)
- (لڈو / آم)
- (شکر یہ / خدا افظ)
- (بھلی / بُری)

حصہ - ب

سوال نمبر ۲۔ جملوں کو ترتیب دیں۔

۱۔ نے اکرم سانپ مارا۔

۲۔ نے زہر اپالی ملی۔

۳۔ ہے علی مرغی ایک کی۔

۴۔ پیارا می جان کیا نے۔

۵۔ کھیل بچے ہیں رہے۔

(۴)

سوال نمبر ۳۔ دیے گئے الفاظ میں سے مذکر مونث الگ کریں۔

۱۔ دادا ۲۔ بہن ۳۔ مرغی ۴۔ کبوتر

مذکر: _____

مونث: _____

/۴

سوال نمبر ۴۔ حروف کو جوڑ کر نیا لفظ بنائیں۔

۱۔ س ک و ل _____

۲۔ ر و ٹ ی _____

۳۔ چ ژ ی ا _____

۴۔ ک ت ا ب _____

/۴

سوال نمبر ۵۔ ہر کالم میں سے الفاظ لے کر کوئی سے دو جملے مکمل کریں

| | | |
|----------|-----------------|----------------|
| اُگائے | دنیا | اللہ تعالیٰ نے |
| عقل دی | پھل پھول | |
| بنائی | پرندے اور جانور | |
| پیدا کیے | انسانوں کو | |

۱۔ _____

۲۔ _____

حصہ - ج

/۴

سوال نمبر ۶۔ اپنی کوئی سی دوا چھی عادتیں لکھیں۔

۱۔ _____

۲۔ _____

/۴

سوال نمبر ۷۔ دی گئی تصاویر کو غور سے دیکھیں اور دو جملوں میں بیان کریں۔



۱۔ _____

۲۔ _____

متن برائے سمعی جائزہ

۱۔ یہ حصہ صرف ممتحن کے لیے ہے۔

۲۔ ممتحن امتحان کے شروع میں یہ متن دوبار بلند آواز میں پڑھے گا/گی۔

۳۔ متن پڑھنے کے بعد طلباء/طالبات سے سوال نمبر ۱ حل کرنے کا کہے گا/گی۔

"بانو کا طوطا میٹھی میٹھی باتیں کرتا ہے۔ کوئی گھر میں داخل ہو تو سلام کرتا ہے اور باہر جائے تو خدا حافظ کہتا ہے۔ بانو پوچھتی ہے؛

طوطے میاں! آم کھاؤ گے؟" طوطا جواب دیتا ہے؛ "جی ہاں، جی ہاں۔" بانو اسے آم دیتی ہے۔ طوطا آنکھیں میکا کر کہتا ہے؛ "شکریہ"

طوطے میاں کی باتیں سب کو بھلی لگتی ہیں۔ سب اُس سے پیار کرتے ہیں۔"



**SCHOOL EDUCATION DEPARTMENT
BOARD OF ELEMENTARY EXAMINATION
GILGIT-BALTISTAN**



MODEL PAPERS FOR TERM EXAMINATION, 2025

Class: **Two**Subject: **General Knowledge**Total Marks: **30**Time: **1 hour**

Name of Student: _____ Roll # _____

Name of School: _____

Signature of Student: _____ Signature of Teacher: _____

Instructions: _____

All sections are compulsory. Write answers in the space provided. Avoid deleting and overwriting.

| Sections | A | B | C | D | Marks Obtained Theory | Practical/ Nazra | Grand Total |
|-------------------|---|---|---|---|-----------------------------|---------------------|----------------|
| Marks Obtained | | | | | | | |
| Out of | | | | | | | |

Remarks by the Assessor:

Name of Assessor: _____

Signature of Assessor: _____

(SECTION-A)**Q.1. (a) Match column A with column B****(1×6)=****/6**

| Sr.no | A | B |
|-------|---|-----------|
| 1 | Religious place of Sikhs is called | Church |
| 2 | Religious place of Hindus is called | Gurdwara |
| 3 | Religious place of Christians is called | buffaloes |
| 4 | Sugar and brown sugar are made from | Thread |
| 5 | We get milk from cows and | Temple |
| 6 | Sweater is made from | Sugarcane |

(b) Put ☒ on the right and ☒ on the false statement**(1×6)=****/6**

- 1) Green colour in Pakistani flag indicates the other religions ☐
- 2) Punjab is the biggest province in terms of population. ☐
- 3) Balochistan is the smallest province in terms of area. ☐
- 4) Police helps us ☐
- 5) The person who repairs a car is called a builder ☐
- 6) School principal runs the school ☐

(c) Write the occupation of the following people in their relevant box shown in the pictures (1×6) = /6,**Hint: player, pilot, doctor, police, teacher, driver.**

| | | | | | |
|----|----|----|----|----|----|
| 1. | 2. | 3. | 4. | 5. | 6. |
|----|----|----|----|----|----|

SECTION-B (Marks 06)

Q.2. Attempt the following questions (Any THREE) (2×3) = /6

I. Write the full form of GB and AJK.

Ans.

II. Being a student, write any two of your rights.

Ans.

III. Which two items are made from milk? Which one do you like the most and why?

Ans.

IV. Write the names of any two crops of Pakistan

Ans

SECTION-C (Marks 06)**Q.3. Attempt the following Questions****(ANYONE)****(6×1) =****/6****I. Write the difference between the culture of Khyber Pakhtunkhwa (KPK) and Sindh**

| Description | KPK | SINDH |
|-------------|-----|-------|
| Language | | |
| Dress | | |
| Food | | |

(OR)**II. Write any *THREE* differences between Eid ul Fitr and Eid ul Azha in given columns**

| Eid ul Fitr | Eid ul Azha |
|-------------|-------------|
| | |
| | |
| | |
| | |
| | |
| | |
| | |



سکول ایجوکیشن ڈیپارٹمنٹ گلگت بلتستان
بورڈ آف ایلیمنٹری اگزامینیشن گلگت بلتستان



ماڈل پرچہ ٹرم امتحانات، ۲۰۲۵

مضمون: اسلامیات

جماعت: دوم

وقت: اگھنٹہ

کل نمبرات: ۳۰

نام طالب علم: _____ رول نمبر: _____

سکول کا نام: _____

دستخط طالب علم: _____ دستخط معلم: _____

| کل میزان | عملی کام (پریکٹکل) / ناظرہ | حاصل کردہ نمبرات (تھیوری) | حصہ | | | | تفصیل |
|----------|-------------------------------|------------------------------|-----|---|---|-----|---------------------|
| | | | د | ج | ب | الف | |
| | | | | | | | حاصل کردہ نمبرات |

جائزہ لینے والے کے ریماں کس:

جائزہ لینے والے کا نام:

جائزہ لینے والے کا دستخط:

حصہ اول (معروضی سوالات) (۱۵/)

سوال نمبر ۱: درست جواب کا انتخاب کریں۔ (۴/)

- الف۔ قیامت تک کا سرچشمہ ————— ہے۔
 (ا) انجیل (ب) قرآن مجید (ج) زبور
 ب۔ بے شک جنت میں ہونگے —————
 (ا) غریب لوگ (ب) مالدار لوگ (ج) نیک لوگ
 ج۔ روزہ اسلام کا ————— ہے۔
 (ا) رکن (ب) طریقہ (ج) عقیدہ
 د۔ عید الفطر منائی جاتی ہے۔
 (ا) یکم شوال کو (ب) یکم رمضان کو (ج) یکم رجب کو

سوال نمبر ۲: کالم الف کو کالم ب سے ملائیں۔ (۴/)

| کالم الف | کالم ب |
|---------------|------------------------|
| حضرت جبرائیلؑ | موت دینا |
| حضرت میکائیلؑ | صور پھونکنا |
| حضرت عزرائیلؑ | اللہ کا پیغام پہنچانا |
| حضرت اسرافیلؑ | رزق اور بارش کا انتظام |

سوال نمبر ۳: درست جملے کے سامنے (✓) اور غلط کے سامنے (✗) کا نشان لگائیں۔ (۴/)

- () (ا) قربانی حضرت نوحؑ کی سنت ہے۔
 () (ب) جس نے رسول ﷺ کی اطاعت کی اس نے اللہ کی اطاعت کی۔
 () (ج) سحری ظہر کے بعد کی جاتی ہے۔
 () (د) اصل کامیابی آخرت کی ہے۔

سوال نمبر ۴: خالی جگہ پر کریں۔ (۴/)

- (ا) جن انبیاء پر کتابیں نازل ہوئیں انہیں ————— بھی کہتے ہیں۔
 (ب) سب سے اعلیٰ جنت ————— ہے۔
 (ج) نبی کریم ﷺ سے ————— ایمان کا حصہ ہے۔

حصہ دوئم (۴/)

سوال نمبر ۵: مندرجہ ذیل میں سے کوئی سے دو جوابات کے مختصر جوابات دیں۔

۱۔ عید الاضحیٰ کب منایا جاتا ہے؟

جواب:

۲۔ آخرت پر ایمان لانے کا کیا مطلب ہے؟

جواب:

۳۔ رمضان میں کرنے والے دو کام بتائیں؟

جواب:

۴۔ اللہ تعالیٰ نے الہامی کتابیں کیوں نازل کیں؟

جواب:

حصہ سوئم (۶/)

سوال نمبر ۶: کوئی سے چھ اسلامی مہینوں کے نام لکھیں۔

یا

کوئی سے تین الہامی کتابوں کے نام لکھیں۔

جواب:

حصہ چہارم (۵/)

ناظرہ



**SCHOOL EDUCATION DEPARTMENT
BOARD OF ELEMENTARY EXAMINATION
GILGIT-BALTISTAN**



MODEL PAPERS FOR TERM EXAMINATION, 2025

Class: Two

Subject: Mathematics

Total Marks: 30

Time: 1 hour

Name of Student: _____ Roll # _____

Name of School: _____

Signature of Student: _____ Signature of Teacher: _____

| Sections | A | B | C | D | Marks Obtained Theory | Practical/ Nazra | Grand Total |
|-------------------|---|---|---|---|-----------------------------|---------------------|----------------|
| Marks Obtained | | | | | | | |
| Out of | | | | | | | |

Remarks by the Assessor:

Name of Assessor: _____

Signature of Assessor: _____

SECTION-A

Note: All sections are compulsory. Write answers in the space provided. Avoid deleting and overwriting.

Q.No.1 (a) Choose the correct option. (1×6)

/ 6

- (i). $100 - 10 =$ _____
 (A) 90 (B) 99 (C) 101 (D) 110
- (ii). 4, 8, 12, 16, _____, 24.
 (A) 17 (B) 18 (C) 19 (D) 20
- (iii). $10 \times 5 = 5 \times$ _____
 (A) 10 (B) 15 (C) 25 (D) 50
- (iv). $6 \div 2 =$ _____
 (A) 3 (B) 4 (C) 6 (D) 8
- (v). 20 rupees = _____ notes of 10-rupees:
 (A) One (B) Two (C) Three (D) Four
- (vi). $\frac{3}{5} + \frac{1}{5}$ is equal to:
 (A) $\frac{4}{10}$ (B) $\frac{2}{10}$ (C) $\frac{2}{5}$ (D) $\frac{4}{5}$

(b) Tick on True and Cross on False. (1×6)

/ 6

- (i) $5 \div 5 = 0$
- (ii) Division of numbers can be done in any order.
- (iii) Rs. 100 + Rs. 5 = Rs. 115
- (iv) Numerator of the unit fractions is “1”
- (v) $\frac{7}{8} - \frac{3}{8}$ is equal to $\frac{10}{8}$
- (vi) The given figure shows $\frac{2}{4}$ fraction.

**(C) Fill in the blanks: (1×6)**

/ 6

- (i). 2×6 _____.
- (ii). Fractions with numerator ‘1’ are called _____ fractions.
- (iii). $10 \times 5 = 5 \times$ _____.
- (iv). 7 times 3 = _____.
- (v). Rs. 50 + Rs. 10 = Rs. _____.
- (vi). $\frac{5}{8} - \frac{3}{8} + \frac{5}{8} =$ _____.

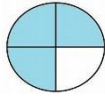
SECTION-B (6Marks)

Attempt any two questions. All questions carry equal marks (3×2)

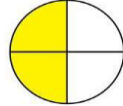
/ 6

Q.No.2 Asad bought 4 pieces of chocolate from market. He lost one piece on the way. Out of three pieces he gave 2 pieces to his brother Ali. How many pieces of chocolate are left with him? Complete the given fraction by drawing another circle.

Note: ($\frac{3}{4} - \frac{2}{4} = \text{-----}$)

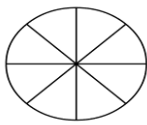


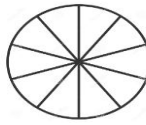
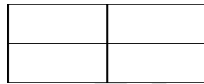
-

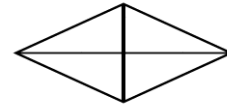


=

Q.No.3 Shade the parts according to the fraction written with each of the following figures.


 $\frac{5}{8}$


 $\frac{3}{6}$

 $\frac{4}{10}$

 $\frac{2}{4}$

 $\frac{1}{5}$

 $\frac{3}{4}$

Q.No4. Mother gave Rs. 50 to Aleeza and Rs. 20 to Alisha. What is the total amount they have?



+



SECTION-C (Marks 6)

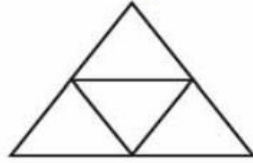
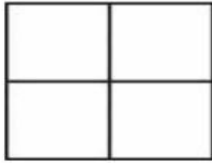
Note: Attempt 1 question

(1×6)

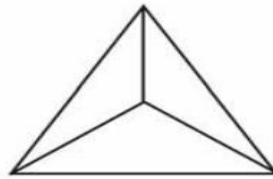
/6

Q.No.5

a

Colour one fourth ($\frac{1}{4}$) of each shape.

b

Colour one third ($\frac{1}{3}$) of each shape.

Q.No.6 Divide and make groups.

/6



Sheela wants to distribute 8 bananas
equally among 4 monkeys.

Sheela gives 2 bananas to each monkey.

Total banana= _____

Total Monkeys= _____

Banana left= _____

 $8 \div 4 =$ _____